


第三、四单元综合能力过关卷

注意事项:1. 本试卷共2页,总分100分,考试时间60分钟。
2. 答卷前将密封线左侧的项目填写清楚。
3. 答案须用黑色字迹的钢笔、签字笔或圆珠笔书写。

题号	一	二	三	四	五	六	卷面分	总分
得分								

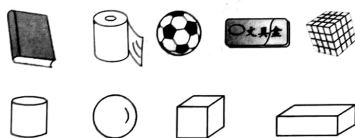
lián xiàn
一、连线。(13分)

1. 连一连。(8分)



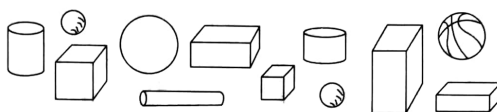
正方体 长方体 圆柱 球

2. 分一分,连一连。(5分)



tián kòng
二、填空。(25分)

1. (13分)

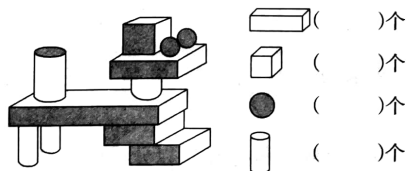


(1)一共有()个图形。

(2)长方体有()个,正方体有()个,圆柱有()个,球有()个。

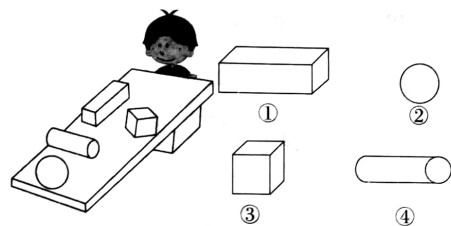
(3)()和()同样多。

2. 数一数。(4分)

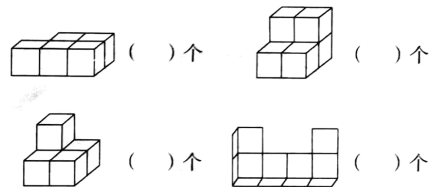


()个
()个
()个
()个

3. 下面图形中,容易滚动的是()和(),不容易滚动的是()和()。(4分)



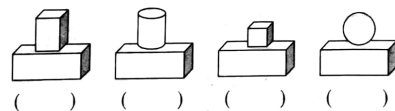
4. 下面的图各由几个小正方体组成?(4分)



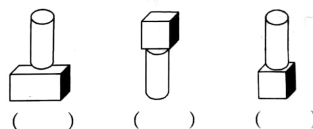
dā jī mù
三、搭积木。(6分)

谁搭的对?在搭的对的下面画“√”。

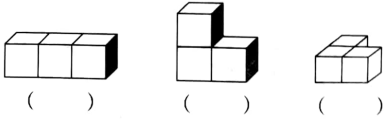
(1)在长方体上面放一个球。



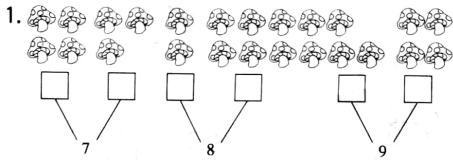
(2)在圆柱下面放一个正方体。



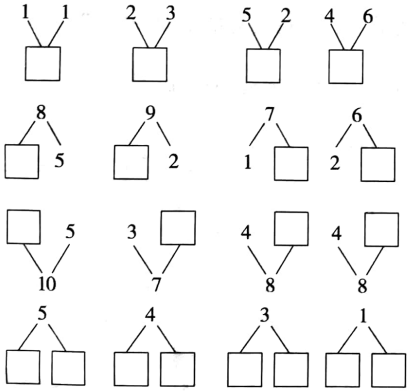
(3)用3个正方体拼成一个长方体。



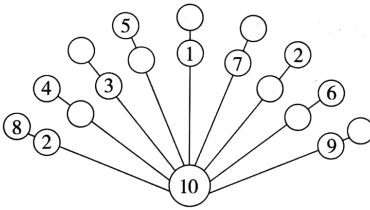
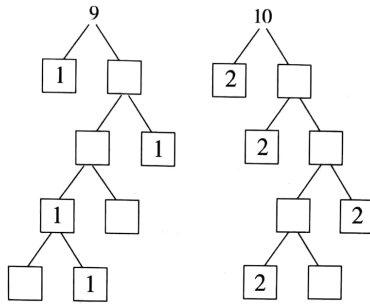
四、看图填□。(26分)



2.在□里填上合适的数。



shù zì yóu xì xiě shàng hé shì de shù
五、数字游戏写上合适的数。(16分)



xuǎn zé tiánkòng zhǐ xuǎn xù hào
六、选择填空。(只选序号)(9分)

1.5可以分成1和4,还可以分成()。

A. 2和2 B. 2和3 C. 2和1

2.合起来是9的两个数是()。

A. 3和5 B. 3和6 C. 3和4

3.和5相邻的两个数是()。

A. 3和4 B. 4和6 C. 6和7

4.比7大的数是()。

A. 6 B. 8 C. 5

5.合起来不等于10的两个数是()。

A. 2和8 B. 3和7 C. 4和5

6.10不能分成的两个数是()。

A. 1和9 B. 4和4 C. 5和5

7.比6大,比9小的两个数是()。

A. 7、5 B. 5、8 C. 7、8

8.2和5能组成7,()也可合成7。

A. 3和4 B. 3和5 C. 3和6

9.合起来是8的两个数是()。

A. 0和8 B. 2和7 C. 3和6



扫描全能王 创建